

к программе по специальности СПО
23.02.04 Техническая эксплуатация подъемно-
транспортных, строительных, дорожных машин и
оборудования (по отраслям)

Министерство образования и молодежной политики Свердловской области
Государственное автономное профессиональное образовательное учреждение
Свердловской области «Суходожский многопрофильный техникум»

РАССМОТРЕНО
Председатель ЦМК

«14» 02 2023 г.

В.Б.Селиванова



И.А. Григорян

2023 г.

**Контрольно-оценочные средства
на промежуточную аттестацию
учебного предмета**

ОУП.10 ГЕОГРАФИЯ

Контрольно-оценочные средства на промежуточную аттестацию по учебному предмету «География» разработаны на основе Федерального государственного образовательного стандарта (далее – ФГОС), утвержденного приказом Минобрнауки России от 23.01.2018г. № 45 (Зарегистрировано в Минюсте России 06.02.2018г. № 49942) по специальности среднего профессионального образования (далее СПО) «Техническая эксплуатация подъемно-транспортных, строительных, дорожных машин и оборудования (по отраслям)»

Организация-разработчик:

Государственное автономное профессиональное образовательное учреждение Свердловской области «Суходолжский многопрофильный техникум»

Разработчик: Калугина Светлана Анатольевна, преподаватель, высшая квалификационная категория

ПОЯСНИТЕЛЬНАЯ ЗАПИСКА

Комплект контрольно-оценочных средств предназначен для проверки результатов освоения учебной дисциплины ОДБ.10 «География» программы подготовки специалистов среднего звена по специальности 23.02.04 «Техническая эксплуатация подъёмно-транспортных, строительных, дорожных машин и оборудования (по отраслям)», реализуемой в ГАПОУ СО «Сухоложский многопрофильный техникум».

Комплект контрольно-оценочных средств разработан на основе рабочей программы по учебной дисциплине ОДБ.10 «География» и используется для проведения промежуточной аттестации в форме дифференцированного зачета.

Дифференцированный зачет по учебной дисциплине ОДБ.10 «География» проводится в виде контрольной работы в соответствии с учебным планом по специальности 23.02.04 «Техническая эксплуатация подъёмно-транспортных, строительных, дорожных машин и оборудования (по отраслям)», и рабочей программой учебной дисциплины по завершении ее изучения.

ОБРАЗОВАТЕЛЬНЫЕ РЕЗУЛЬТАТЫ ОСВОЕНИЯ УЧЕБНОЙ ДИСЦИПЛИНЫ

В результате освоения дисциплины обучающийся осваивает элементы общих компетенций. В рамках программы учебной дисциплины обучающимися осваиваются личностные, метапредметные и предметные результаты в соответствии с требованиями ФГОС среднего общего образования:

- ОК 01. Выбирать способы решения задач профессиональной деятельности применительно к различным контекстам;
- ОК 02. Осуществлять поиск, анализ и интерпретацию информации, необходимой для выполнения задач профессиональной деятельности;
- ОК 03. Планировать и реализовывать собственное профессиональное и личностное развитие;
- ОК 04. Работать в коллективе и команде, эффективно взаимодействовать с коллегами, руководством, клиентами;
- ОК 05. Осуществлять устную и письменную коммуникацию на государственном языке Российской Федерации с учетом особенностей социального и культурного контекста;
- ОК 06. Проявлять гражданско-патриотическую позицию, демонстрировать осознанное поведение на основе традиционных общечеловеческих ценностей;
- ОК 07. Содействовать сохранению окружающей среды, ресурсосбережению, эффективно действовать в чрезвычайных ситуациях;
- ОК 08. Использовать средства физической культуры для сохранения и укрепления здоровья в процессе профессиональной деятельности и поддержания необходимого уровня физической подготовленности;
- ОК 09. Использовать информационные технологии в профессиональной деятельности;
- ОК 10. Пользоваться профессиональной документацией на государственном и иностранном языках;
- ОК 11. Использовать знания по финансовой грамотности, планировать предпринимательскую деятельность в профессиональной сфере.

СПИСОК ЛИТЕРАТУРЫ И ИСТОЧНИКОВ

Основная литература:

1. Калуцков, В. Н. География России. Базовый и углубленный уровни: 10-11 классы: учебник и практикум для среднего общего образования / В. Н. Калуцков. - 3-е изд., испр. и доп. - М.: Издательство Юрайт, 2023. - 305 с. - (Общеобразовательный цикл). - ISBN 978-5-534-16446-6. - Текст: электронный // Образовательная платформа Юрайт [сайт].
2. Калуцков, В. Н. География России: учебник и практикум для СПО / В. Н. Калуцков. - 3-е изд., испр. и доп. - М.: Издательство Юрайт, 2023. - 228 с. - (Профессиональное образование). - ISBN 978-5-534-16136-6. - Текст: электронный // Образовательная платформа Юрайт [сайт].
3. Коломиец, А. В. География для колледжей: учебник и практикум для СПО / А. В. Коломиец [и др.]; под редакцией А. В. Коломийца, А. А. Сафонова. - 3-е изд., перераб. и доп. - М.: Издательство Юрайт, 2023. - 362 с. - (Профессиональное образование). - ISBN 978-5-534-16137-3. - Текст: электронный // Образовательная платформа Юрайт [сайт].
4. Коломиец, А. В. География мира. Базовый и углубленный уровни: 10-11 классы: учебник для среднего общего образования / А. В. Коломиец [и др.]; под редакцией А. В. Коломийца, А. А. Сафонова. - 3-е изд., перераб. и доп. - М.: Издательство Юрайт, 2023. - 360 с. - (Общеобразовательный цикл). - ISBN 978-5-534-15652-2. - Текст: электронный // Образовательная платформа Юрайт [сайт].

Дополнительная литература:

1. Вишняков Я. Д. Экономическая география: учебник и практикум для СПО / Я. Д. Вишняков [и др.]; под общей редакцией Я. Д. Вишнякова. - Москва: Издательство Юрайт, 2023. - 594 с. - (Профессиональное образование). - ISBN 978-5-534-16614-9. - Текст: электронный // Образовательная платформа Юрайт [сайт].
2. Лобжанидзе, А. А. География народов и религий: учебник и практикум для СПО / А. А. Лобжанидзе, С. А. Горохов, Д. В. Заяц. - 2-е изд., перераб. и доп. - Москва: Издательство Юрайт, 2023. - 203 с.: [8] с. цв. вкл. - (Профессиональное образование). - ISBN 978-5-534-10561-2. - Текст: электронный // Образовательная платформа Юрайт [сайт].

**ПРОМЕЖУТОЧНАЯ АТТЕСТАЦИЯ
В ФОРМЕ ДИФФЕРЕНЦИРОВАННОГО ЗАЧЕТА
ПО УЧЕБНОЙ ДИСЦИПЛИНЕ ОДБ.10 «ГЕОГРАФИЯ»**

Настоящие задания предназначены для итоговой проверки знаний, умений и навыков обучающихся по учебной дисциплине ОДБ.10 «География».

1. Время выполнения работы - 90 минут.
2. Во время проведения дифференцированного зачета обучающиеся не пользуются никакими учебными материалами (конспектами, учебниками и др.), не разрешается также покидать аудиторию.
3. Работа выполняется на стандартном листе со штампом учебного заведения.
4. Оценки сообщаются через день после написания работы.

Контрольная работа состоит из 4 вариантов, каждый из которых состоит из 2 частей, включающая 19 заданий:

Часть 1 включает 15 заданий (А1-А15). К каждому заданию приводится 4 варианта ответа, один из которых верный. За каждое верно выполненное задание выставляется один балл. Максимальное число баллов этой части – 15.

Часть 2 содержит 4 задания (В1-В4), которые требуют краткого ответа в виде числа, слова, последовательности цифр. В этой части используются задания на установление соответствия, или последовательности, а так же задания в которых требуется самостоятельно записать правильный ответ. За верно выполненное задание выставляется 3 балла, если ответ не соответствует эталону - 0 баллов. Максимальное число баллов этой части – 12.

Максимальное количество баллов за всю работу – 27.

Баллы за правильно выполненные вопросы тестового задания суммируются. Сумма баллов формирует итоговую оценку.

На основе суммы всех полученных баллов предлагается руководствоваться следующей системой оценивания:

- 27-24 баллов - оценка 5 (отлично)
- 23-20 балл – оценка 4 (хорошо)
- 19-15 баллов – оценка 3 (удовлетворительно)
- менее 15 баллов – оценка 2 (неудовлетворительно)

**Задания для дифференцированного зачета
по ОДБ.10 «География»**

вариант 1

Часть А. В заданиях А1-А15 необходимо выбрать один ответ из четырех предлагаемых

А1. Какое из перечисленных государств расположено в Африке?

| | |
|------------|-----------|
| 1)Парагвай | 3)Алжир |
| 2)Тайланд | 4)Мексика |

А2. Какое из перечисленных государств по форме правления является республикой?

| | |
|------------|----------|
| 1)Малайзия | 3)Япония |
| 2)Тайланд | 4)США |

А3. Какая страна относится к странам с федеративным устройством?

| | |
|------------|-----------|
| 1)Германия | 3)Франция |
| 2)Китай | 4) Япония |

А4. Какая страна относится к новым индустриальным странам?

| | |
|----------|-------------|
| 1) Китай | 3) Малайзия |
| 2) Алжир | 4) Япония |

А5. Численность населения земного шара более

| | |
|------------------|------------------|
| 1) 6 млрд. чел. | 3) 8 млрд. чел. |
| 2) 10 млрд. чел. | 4) 15 млрд. чел. |

А6. В какой из перечисленных стран ВВП на душу населения наибольший?

| | |
|------------|--------------|
| 1) Непал | 3) Бельгия |
| 2) Албания | 4) Свазиленд |

А7. Какая страна наиболее богата лесными ресурсами?

| | |
|------------|--------------|
| 1) Франция | 3) Китай |
| 2) Канада | 4) Австралия |

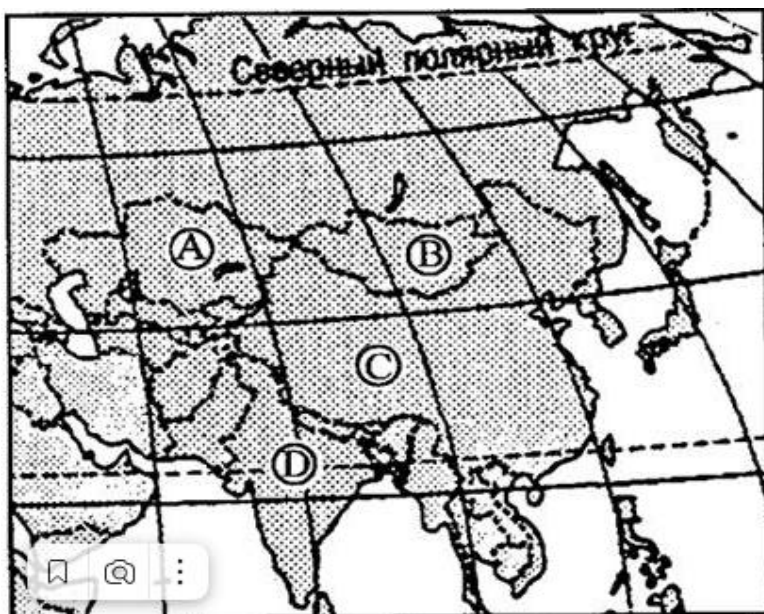
А8. Выберите государство, расположенное в Южной Америке:

| | |
|-----------|------------|
| 1) Чили | 3) Эритрея |
| 2) Канада | 4) Бутан |

А9. Какие из перечисленных государств имеют сухопутную границу с Россией?

| | |
|----------------------|---------------------------|
| 1) Германия, Польша | 3) Афганистан, Узбекистан |
| 2) Армения, Молдавия | 4) Финляндия, Норвегия |

A10. Какой буквой на фрагменте карты Азии обозначена Монголия?



- | |
|------|
| 1) A |
| 2) B |
| 3) C |
| 4) D |

A11. Какая из перечисленных стран входит в состав ОПЕК?

- | | |
|----------------------|--------------|
| 1) Норвегия | 3) Канада |
| 2) Саудовская Аравия | 4) Казахстан |

A12. Для какой из перечисленных стран характерен миграционный прирост населения?

- | | |
|----------|------------|
| 1) Индия | 3) Мали |
| 2) Китай | 4) Франция |

A13. Для какой из перечисленных стран наиболее велика доля горожан в общей численности населения?

- | | |
|-------------------|-------------|
| 1) Индонезия | 3) Монголия |
| 2) Великобритания | 4) Турция |

A14. Основные потребители российской нефти и газа:

- | | |
|------------------------------|-------------------------------|
| 1) Германия, Италия, Франция | 3) Казахстан, Чехия, Болгария |
| 2) Белоруссия и Украина | 4) Румыния, Польша, Венгрия |

A15. Пластмасс производится больше, чем минеральных удобрений, в:

- | | |
|------------------------|----------------------|
| 1) США и Германии | 3) Индонезии и Китае |
| 2) Узбекистане и Индии | 4) Бразилии и Японии |

Часть В. В заданиях В1-В4 необходим краткий ответ в виде числа, слова, последовательности цифр. В этой части используются задания на установление соответствия, или последовательности, а так же задания в которых требуется самостоятельно записать правильный ответ.

В1. Установите соответствие между страной и её столицей:

| | |
|--------------|-------------|
| А) Норвегия | 1) Канберра |
| Б) Австралия | 2) София |
| В) Египет | 3) Каир |
| Г) Болгария | 4) Осло |

Запишите в таблицу цифры, соответствующие выбранным ответам.

| | | | |
|---|---|---|---|
| А | Б | В | Г |
| | | | |

В2. Определите страну по её краткому описанию:

Эта европейская страна с федеративным устройством относится к группе высокоразвитых стран, не имеет морских границ. Её столицу называют городом вальсов и парков. В разное время здесь жили такие композиторы, как Моцарт, Бетховен, Штраус, Кальман и др. Страна знаменита своими горнолыжными курортами.

Ответ: _____.

В3. Расположите страны в порядке возрастания в них естественного прироста населения (на 1 тыс. жителей):

| | |
|----------------------|--------------|
| А) Венгрия | 1) Аргентина |
| Б) Саудовская Аравия | 2) Канада |

Запишите в таблицу получившуюся последовательность букв.

| | | | |
|--|--|--|--|
| | | | |
|--|--|--|--|

В4. Используя данные из приведённой ниже таблицы, сравните обеспеченность стран лесными ресурсами. Расположите страны в порядке уменьшения показателя ресурсообеспеченности:

| | Страна | Размеры лесной площади, млн га | Численность населения, млн чел. |
|----|------------------|-----------------------------------|------------------------------------|
| А) | Австралия | 145,0 | 21 |
| Б) | Канада | 494,0 | 33 |
| В) | Перу | 84,8 | 28 |

Запишите в таблицу получившуюся последовательность букв.

| | | |
|--|--|--|
| | | |
|--|--|--|

**Задания для дифференцированного зачета
по ОДБ.10 «География»**

вариант 2

Часть А. В заданиях А1-А15 необходимо выбрать один ответ из четырех предлагаемых

А1. Укажите самое большое по площади государство мира, не имеющее выхода к Мировому океану:

| | |
|-------------|---------------|
| 1) Монголия | 3) Казахстан |
| 2) Боливия | 4) Афганистан |

А2. Для какой из перечисленных стран характерна минимальная доля городского населения?

| | |
|-----------|-------------|
| 1) Польша | 3) США |
| 2) Непал | 4) Бразилия |

А3. Первое место по экспорту железной руды занимает:

| | |
|-------------|-----------|
| 1) Япония | 3) Россия |
| 2) Бразилия | 4) США |

А4. Выберите государство, расположенное в Европе:

| | |
|----------|----------|
| 1) Катар | 3) Дания |
| 2) Бенин | 4) Гаити |

А5. Какие из перечисленных государств имеют сухопутную границу с Россией?

| | |
|--------------------|-------------------------|
| 1) Китай, Монголия | 3) Южная Корея, Вьетнам |
| 2) Армения, Турция | 4) Германия, Румыния |

А6. Какой буквой на фрагменте политической карты Зарубежной Европы обозначено государство Норвегия?



| |
|------|
| 1) А |
| 2) В |
| 3) С |
| 4) D |

A7. Какое из перечисленных государств по форме правления является республикой?

| | |
|-----------|-----------|
| 1) Япония | 3) Италия |
| 2) Дания | 4) Швеция |

A8. Какая из перечисленных стран входит в состав ОПЕК?

| | |
|--------------|-------------|
| 1) Индонезия | 3) Индия |
| 2) Канада | 4) Бразилия |

A9. В какой из перечисленных стран доля иммигрантов в населении наибольшая?

| | |
|-------------|------------|
| 1) Германия | 3) Мексика |
| 2) Конго | 4) Алжир |

A10. В какой из перечисленных стран наиболее велика доля горожан в общей численности населения?

| | |
|--------------|---------------|
| 1) Индонезия | 3) Афганистан |
| 2) Норвегия | 4) Турция |

A11. Основным энергоресурсом для производства электроэнергии в мире является:

| | |
|----------|-----------------------|
| 1) газ | 3) уголь |
| 2) нефть | 4) гидроэнергоресурсы |

A12. Самыми большими в мире запасами нефти обладает:

| | |
|-----------|----------------------|
| 1) Россия | 3) Саудовская Аравия |
| 2) США | 4) Кувейт |

A13. Первое место в мире по объему речного стока принадлежит:

| | |
|--------------|-------------|
| 1) России | 3) Китаю |
| 2) Австралии | 4) Бразилии |

A14. Лесная промышленность является отраслью международной специализации для:

| | |
|-----------------------|---------------------|
| 1) Канады и Швеции | 3) Японии и ЮАР |
| 2) Египта и Австралии | 4) Германии и Индии |

A15. Суммарно наибольшее количество зерна собирают в:

| | |
|------------------|-------------------------|
| 1) Китае и Индии | 3) Австралии и Камбодже |
| 2) США и Венгрии | 4) Франции и Иране |

Часть В. В заданиях В1-В4 необходим краткий ответ в виде числа, слова, последовательности цифр. В этой части используются задания на установление

соответствия, или последовательности, а так же задания в которых требуется самостоятельно записать правильный ответ.

В1. Установите соответствие между страной и её столицей:

| | |
|-------------|---------------|
| А) Ирландия | 1) Копенгаген |
| Б) Дания | 2) Осло |
| В) Норвегия | 3) Дублин |
| Г) Швеция | 4) Стокгольм |

Запишите в таблицу цифры, соответствующие выбранным ответам.

| | | | |
|---|---|---|---|
| А | Б | В | Г |
| | | | |

В2. Определите страну по её краткому описанию:

Эта страна, расположенная на полуострове, раньше называлась Сиам. По форме правления - монархия с федеративным устройством. Входит в состав международной организации АСЕАН, её относят к новым индустриальным странам. Курорты и пляжи привлекают большое количество туристов из европейских стран и России в эту страну. Здесь добывают ценное тиковое дерево.

Ответ: _____.

В3. Расположите страны в порядке возрастания в них рождаемости (на 1 тыс. жителей):

| | |
|------------|-------------|
| А) Эфиопия | 1) Болгария |
| Б) США | 2) Монголия |

Запишите в таблицу получившуюся последовательность букв.

| | | | |
|--|--|--|--|
| | | | |
|--|--|--|--|

В4. Используя данные из приведённой ниже таблицы, сравните ресурсообеспеченность стран пресной водой. Расположите в порядке уменьшения показателя ресурсообеспеченности:

| | Страна | Ресурсы пресной воды, км ³ | Численность населения, млн чел. |
|----|------------------|---------------------------------------|---------------------------------|
| А) | Венесуэла | 1320 | 28 |
| Б) | Канада | 2900 | 33 |
| В) | Индия | 2085 | 1132 |

Запишите в таблицу получившуюся последовательность букв.

| | | | |
|--|--|--|--|
| | | | |
|--|--|--|--|

**Задания для дифференцированного зачета
по ОДБ.10 «География»**

вариант 3

Часть А. В заданиях А1-А15 необходимо выбрать один ответ из четырех предлагаемых

А1. Территория какого государства мира расположена ближе всех к Северному полюсу?

| | |
|----------|---------|
| 1)Россия | 3)США |
| 2)Канада | 4)Дания |

А2. Какая страна Европы не является монархией?

| | |
|-----------|--------------|
| 1)Испания | 3)Норвегия |
| 2)Италия | 4)Нидерланды |

А3. Какое из перечисленных государств является федеративной республикой?

| | |
|------------|--------|
| 1)Бразилия | 3)Чили |
| 2)Куба | 4)Перу |

А4. Какая страна относится к ключевым развивающимся странам?

| | |
|--------------|------------|
| 1) Индия | 3) Бахрейн |
| 2) Индонезия | 4) Бутан |

А5. В южной Америке самой крупной по численности населения страной является:

| | |
|--------------|-------------|
| 1) Перу | 3) Уругвай |
| 2) Аргентина | 4) Бразилия |

А6. Доля какого региона в общей численности населения мира больше?

| | |
|-----------|------------|
| 1) Азия | 3) Африка |
| 2) Европа | 4) Америка |

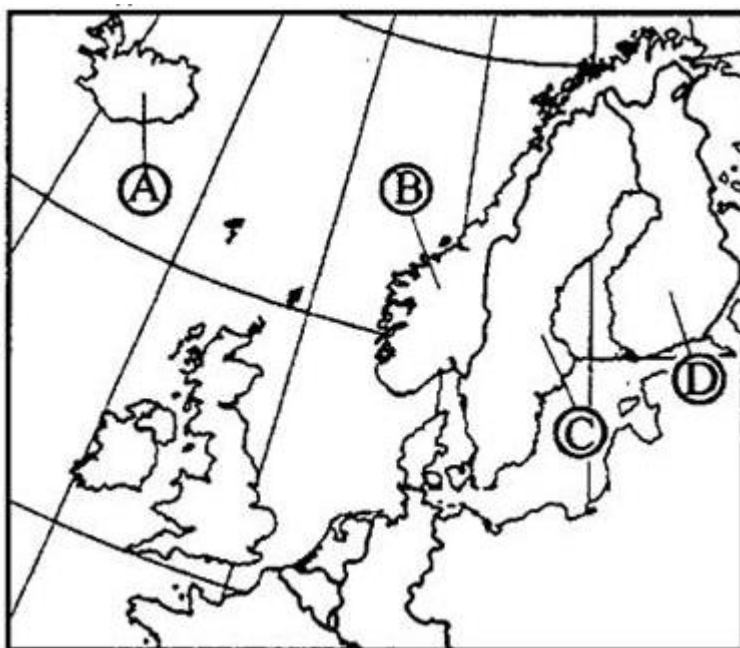
А7. Какая из перечисленных стран обладает наибольшими запасами природного газа?

| | |
|----------------------|---------------|
| 1) Россия | 3) Польша |
| 2) Саудовская Аравия | 4) Белоруссия |

А8. Какие из перечисленных государств имеют сухопутную границу с Россией?

| | |
|--------------------|----------------------|
| 1) Швеция, Дания | 3) Монголия, Румыния |
| 2) Армения, Турция | 4) Финляндия, Грузия |

А9. Какой буквой на фрагменте политической карты Зарубежной Европы обозначено государство Исландия?



| |
|------|
| 1) A |
| 2) B |
| 3) C |
| 4) D |

A10. Какое из перечисленных государств по форме правления является монархией?

| | |
|---------------|--------------|
| 1) Испания | 3) Франция |
| 2) Португалия | 4) Финляндия |

A11. Какая из перечисленных стран входит в состав ЕС?

| | |
|-------------|---------------|
| 1) Исландия | 3) Нидерланды |
| 2) Белиз | 4) Бангладеш |

A12. Для какой из перечисленных стран характерна наибольшая трудовая иммиграция?

| | |
|-----------|------------|
| 1) Кувейт | 3) Вьетнам |
| 2) Индия | 4) Нигерия |

A13. В какой из перечисленных стран средняя плотность населения наибольшая?

| | |
|-----------|-------------|
| 1) Канада | 3) Бразилия |
| 2) Алжир | 4) Индия |

A14. В какой из перечисленных стран в общей численности населения доля горожан наибольшая?

| | |
|-------------------|-----------|
| 1) Великобритания | 3) Китай |
| 2) Россия | 4) Италия |

A15. Крупнейшим в мире районом развития нефтехимических производств является побережье:

| | |
|-------------------------|------------------------|
| 1) Мексиканского залива | 3) Персидского залива |
| 2) Гвинейского залива | 4) Бенгальского залива |

Часть В. В заданиях В1-В4 необходим краткий ответ в виде числа, слова, последовательности цифр. В этой части используются задания на установление соответствия, или последовательности, а так же задания в которых требуется самостоятельно записать правильный ответ.

В1. Расположите страны в порядке увеличения в них численности населения:

| | |
|-----------|-------------|
| А) США | 1) Бразилия |
| Б) Япония | 2) Россия |

Запишите в таблицу получившуюся последовательность букв.

| | | | |
|--|--|--|--|
| | | | |
|--|--|--|--|

В2. Определите страну по её краткому описанию:

Это государство с самой маленькой площадью территории и минимальным числом жителей - уникальное по форме правления (теократическая монархия), расположено в Европе. Здесь имеется свое правительство, банк, гвардия, законы. Сфера деятельности этого государства - весь мир.

Ответ: _____.

В3. Установите соответствие между страной и её расположением на карте, обозначенным цифрой:



| Страна | Расположение на карте |
|---------------------|-----------------------|
| 1) Аргентина | 1)А |
| 2)Ангола | 2)В |
| 3)Саудовская Аравия | 3)С |
| | 4)D |

Запишите в таблицу буквенные обозначения, соответствующие выбранным ответам.

| | | |
|----------|----------|----------|
| 1 | 2 | 3 |
| | | |

В4. Используя данные из приведённой ниже таблицы, сравните ресурсообеспеченность стран пахотными землями. Расположите страны в порядке увеличения показателя ресурсообеспеченности:

| | Страна | Ресурсы пахотных земель, млн га | Численность населения, млн чел. |
|----|------------------|--|--|
| А) | Австралия | 47,0 | 28 |
| Б) | Канада | 45,4 | 33 |
| В) | Индия | 166,1 | 1132 |

Запишите в таблицу получившуюся последовательность букв.

| | | |
|--|--|--|
| | | |
|--|--|--|

**Задания для дифференцированного зачета
по ОДБ.10 «География»**

вариант 4

Часть А. В заданиях А1-А15 необходимо выбрать один ответ из четырех предлагаемых

А1. Какую из перечисленных стран пересекает экватор?

| | |
|--------------|-------------|
| 1) Бразилия | 3) Боливия |
| 2) Аргентина | 4) Парагвай |

А2. Какое из перечисленных государств по форме правления является республикой?

| | |
|-----------|-------------|
| 1) Кувейт | 3) Иордания |
| 2) Китай | 4) Бруней |

А3. Какая страна Европы является монархией?

| | |
|-------------|---------------|
| 1) Ирландия | 3) Латвия |
| 2) Албания | 4) Люксембург |

А4. Какая страна не входит в состав "Большой семерки"?

| | |
|-----------|------------|
| 1) Япония | 3) Испания |
| 2) Италия | 4) Франция |

А5. Политику, направленную на рост рождаемости проводит:

| | |
|------------|----------|
| 1) Китай | 3) Кения |
| 2) Франция | 4) Алжир |

А6. В какой из перечисленных стран ВВП на душу населения наименьший?

| | |
|--------------|-----------|
| 1) Швейцария | 3) Польша |
| 2) Индия | 4) Чехия |

А7. В какой из перечисленных стран средняя плотность населения наименьшая?

| | |
|--------------|------------|
| 1) Бангладеш | 3) Россия |
| 2) Бельгия | 4) Украина |

А8. Укажите страны, обладающие наиболее крупным гидроэнергетическим потенциалом:

| | |
|------------------------|----------------------|
| 1) Аргентина и ЮАР | 3) Россия и Бразилия |
| 2) Франция и Австралия | 4) Мексика и Чили |

А9. Какая из перечисленных стран обладает наибольшими запасами угля?

| | |
|----------------------|--------------|
| 1) США | 3) Австралия |
| 2) Саудовская Аравия | 4) Китай |

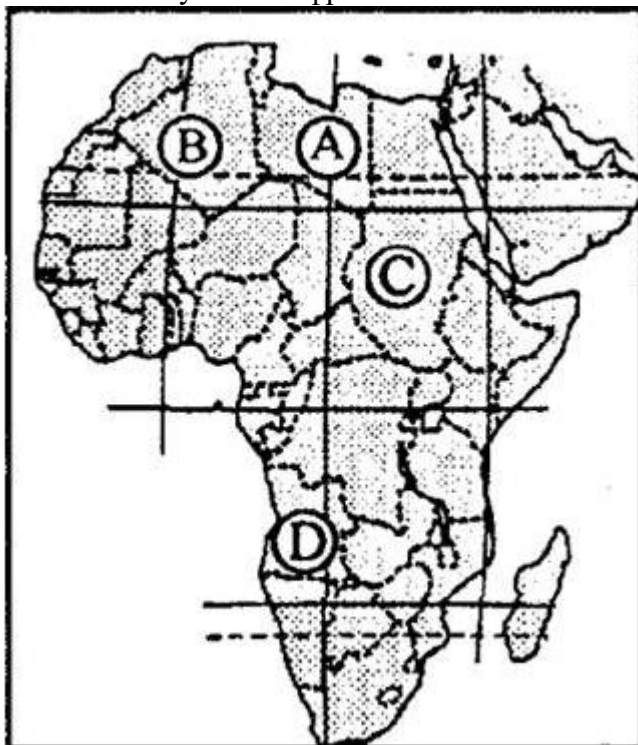
A10. Выберите государство, расположенное в Азии:

| | |
|----------|------------|
| 1) Гаити | 3) Куба |
| 2) Оман | 4) Ватикан |

A11. Какие из перечисленных государств имеют сухопутную границу с Россией?

| | |
|---------------------|--------------------------|
| 1) Чехия, Венгрия | 3) Таджикистан, Армения |
| 2) Латвия, Германия | 4) Северная Корея, Китай |

A12. Какой буквой на фрагменте политической карты Африки обозначено государство Судан?



| |
|------|
| 1) А |
| 2) В |
| 3) С |
| 4) D |

A13. Какое из перечисленных государств по форме правления является монархией?

| | |
|-------------|----------------------|
| 1) Австрия | 3) Саудовская Аравия |
| 2) Ирландия | 4) Мьянма |

A14. В какой из перечисленных стран доля городского населения наименьшая?

| | |
|---------------|------------|
| 1) Австрия | 3) Испания |
| 2) Афганистан | 4) Мексика |

A15. Первое место по размеру лесопокрытой площади занимает:

| | |
|-------------|-----------|
| 1) Россия | 3) Канада |
| 2) Бразилия | 4) США |

Часть В. В заданиях В1-В4 необходим краткий ответ в виде числа, слова, последовательности цифр. В этой части используются задания на установление

соответствия, или последовательности, а так же задания в которых требуется самостоятельно записать правильный ответ.

В1. Установите соответствие между страной и её столицей:

| | |
|--------------|-------------|
| А) Перу | 1) Джакарта |
| Б) Индонезия | 2) Лима |
| В) Парагвай | 3) Асунсьон |
| Г) Мексика | 4) Мехико |

Запишите в таблицу цифры, соответствующие выбранным ответам.

| | | | |
|---|---|---|---|
| А | Б | В | Г |
| | | | |

В2. Определите страну по её краткому описанию:

Эта страна - архипелаг, является одной из наиболее развитых стран мира. По форме правления - конституционная монархия. Характерная особенность её природы - частые землетрясения, наличие действующих вулканов. Страна занимает ведущие места в мире по производству различных видов продукции машиностроения, производству электроэнергии, выплавке стали. Вокруг её столицы образовалась крупная агломерация.

Ответ: _____.

В3. Расположите страны в порядке убывания в них рождаемости (на 1 тыс. жителей):

| | |
|-------------|----------|
| А) США | 1) Индия |
| Б) Мозамбик | 2) Литва |

Запишите в таблицу получившуюся последовательность букв.

| | | | |
|--|--|--|--|
| | | | |
|--|--|--|--|

В4. Используя данные из приведённой ниже таблицы, сравните ресурсообеспеченность стран пресной водой. Расположите в порядке уменьшения показателя ресурсообеспеченности:

| | Страна | Ресурсы пресной воды, км ³ | Численность населения, млн чел. |
|----|---------------|---------------------------------------|---------------------------------|
| А) | США | 2480 | 302 |
| Б) | Канада | 2900 | 33 |
| В) | Индия | 2085 | 1132 |

Запишите в таблицу получившуюся последовательность букв.

| | | |
|--|--|--|
| | | |
|--|--|--|

ОТВЕТЫ
к дифференцированному зачету по ОДБ.10 «География»

Часть А

| № задания | вариант 1 | вариант 2 | вариант 3 | вариант 4 |
|-----------|-----------|-----------|-----------|-----------|
| A1 | 3 | 3 | 2 | 1 |
| A2 | 4 | 2 | 2 | 2 |
| A3 | 1 | 2 | 1 | 4 |
| A4 | 3 | 3 | 1 | 3 |
| A5 | 1 | 1 | 4 | 2 |
| A6 | 3 | 3 | 1 | 2 |
| A7 | 2 | 3 | 1 | 3 |
| A8 | 1 | 1 | 4 | 3 |
| A9 | 4 | 1 | 1 | 4 |
| A10 | 3 | 2 | 1 | 2 |
| A11 | 2 | 2 | 3 | 4 |
| A12 | 4 | 3 | 1 | 3 |
| A13 | 2 | 4 | 4 | 3 |
| A14 | 2 | 1 | 1 | 2 |
| A15 | 1 | 1 | 3 | 1 |

Часть В

| № задания | вариант 1 | вариант 2 | вариант 3 | вариант 4 |
|-----------|-------------|-------------|------------|-------------|
| B1 | A4;B1;B3;Г2 | A3;Б4;B2;Г4 | Б, Г, В, А | A2;Б1;B3;Г4 |
| B2 | Австрия | Тайланд | Ватикан | Япония |
| B3 | А, В, Г, Б | В, Б, А, Г | 1В, 2С, 3D | Б, В, А, Г |
| B4 | Б, А, В | Б, А, В | В, Б, А | Б, А, В |

КРИТЕРИИ ОЦЕНКИ

| № задания | Критерии оценки | Максимальный балл |
|-----------|---|-------------------|
| A1-A15 | На вопрос дан верный ответ | 15 |
| | На вопрос дан неверный ответ или ответ не дан | 0 |
| B1-B4 | 4 верных ответа | 12 |
| | 3 верных ответа | 9 |
| | 2 верный ответ | 6 |
| | 1 верный ответ | 3 |
| | 0 верных ответов или ответ не дан | 0 |
| Всего | | 27 |

